

令和7年度

# 入学試験問題

## 社会科

(40分)

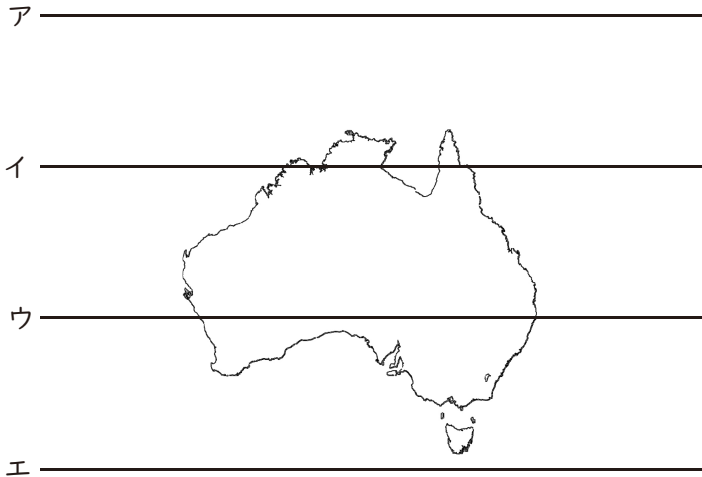
### 注意事項

1. 「はじめ」の合図があるまで問題用紙を開かないこと。
2. 答えはすべて解答用紙に記入すること。
3. 解答用紙に受検番号と名前を記入してから始めること。
4. 質問その他、試験中に用がある場合はだまって手をあげる  
こと。
5. 「やめ」の合図があったら、すぐ筆記用具を置くこと。



I 次の地図や語句について、あとの問いに答えなさい。

(I) 次のオーストラリア大陸の地図を見て、①～④の問いに答えなさい。

① 赤道が正しく示されているものをア～エの中から1つ選び、記号で答えなさい。



② オーストラリア大陸周辺にある国家の国旗として、ア～オの中から間違っているものを1つ選び、記号で答えなさい。



③ オーストラリアと日本について正しく説明している文をア～エの中からすべて選び、記号で答えなさい。

ア 日本は北半球にあり、オーストラリアは南半球にある。

イ 日本とオーストラリアにおける各都市の平均気温（12月）は、ほとんど同じである。

ウ 日本とオーストラリアの経度は、どちらも東経で示される。

エ 日本とオーストラリアには、どちらにも砂漠はない。

- ④ A・Bは日本が主にオーストラリアから輸入している品である。正しいものを下のア～オの中から、それぞれ1つずつ選び、記号で答えなさい。

A 輸入額7兆1998億円(2022年)

42.7	16.7	9.5	5.7	25.4
------	------	-----	-----	------

オーストラリア マレーシア ロシア アメリカ合衆国 その他

B 輸入額1兆7373億円(2020年)

59.6	15.9	12.5	12
------	------	------	----

オーストラリア インドネシア ロシア その他

ア 鉄鉱石    イ 原油    ウ 液化天然ガス    エ 石炭    オ 精密機械

- (2) 次の2つの文章で述べられている語句を、それぞれ答えなさい。

① 

国家などの境界を越えて世界的規模に広がり、一体化していく社会のことを何社会というか、 <b>カタカナ</b> で書きなさい。
--

② 

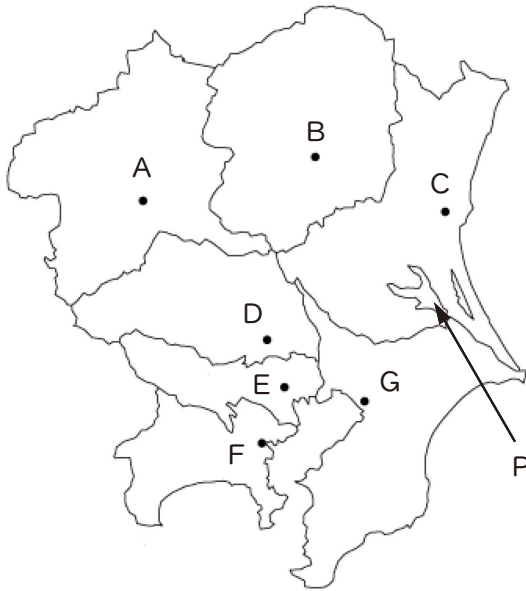
2015年に国連本部にて開催されたサミットで採択された17の目標であるSDGsは、どのような開発目標であるか、 <b>漢字</b> で書きなさい。
---

2

関東地方について、あとの問いに答えなさい。

〔資料Ⅰ〕 関東地方の地図

〔資料Ⅱ〕 関東地方の昼夜間人口



都県名	□X□(万人)	□Y□(万人)
東京都	1,405	1,632
F 県	924	847
G 県	628	567

(総務省統計局『国勢調査報告』より作成)

(地図中の・は都県庁所在地をしめしている)

(1) 資料Ⅰについて、①～③の問いに答えなさい。

- ① 東京都の都庁所在地は、新宿区であり、地図上は「東京」と明記されている場合がある。東京都以外の他県の県庁所在地名の中で、表記を含めて県名と同じ県庁所在地名がある県をA～Gの中から1つ選び、記号で答えなさい。
- ② 関東地方の中で、海に面していない都県はどれか、A～Gの中からすべて選び、記号で答えなさい。
- ③ Pは、全国で2番目に面積が大きい湖である。その名称を次のア～エの中から1つ選び、記号で答えなさい。

ア いなわしろこ 猪苗代湖    イ はちろうがた 八郎潟    ウ かすみ がうら 霞ヶ浦    エ サロマ湖

(2) 関東地方の人口が全国に占めるおおよその割合を次のア～エの中から1つ選び、記号で答えなさい。

ア 2分の1    イ 3分の1    ウ 4分の1    エ 5分の1

(3) 資料Ⅱについて、①～②の問いに、答えなさい。

① 資料Ⅱは、東京都とF県、G県の昼間と夜間の人口をまとめた表である。

□X・□Y のどちらが「昼間人口」かを選び、そのように考えた理由を書きなさい。

② 一部の都市に人口が集中することを「過密」と言うが、集中することにより生じると考えられる問題として、次のア～エの中から<sup>まちが</sup>間違って説明した文を一つ選び、記号で答えなさい。

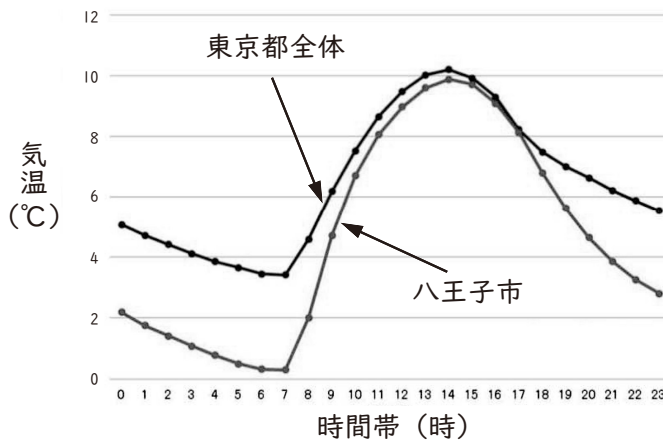
ア 災害が発生した際に、交通がストップし、帰宅困難者を大量に生む。

イ 大量のゴミが生じるため、回収や処理に多くの税金を使うことになる。

ウ 住居希望者が多くいるため、価格競争が生じ、住宅価格が下落する。

エ 分散した交通利用が進められているが、一部の公共交通機関は混雑が続いている。

〔資料Ⅲ〕 東京都全体と八王子市の気温比較<sup>ひかく</sup>



(千代田区資料より作成)

(4) 資料Ⅲについて、東京都全体と八王子市の気温を比べると、夜間において市部の気温よりも都心部の気温の方が高いことが読み取れる。他地域においても、郊外に比べて都心部の気温の方が高い現象が見られるが、これを何とよいか、書きなさい。

(5) 日本で最も広い関東平野には、火山灰が積もった赤土におおわれた台地が広がっている。この赤土の層のことを何とよいか、書きなさい。

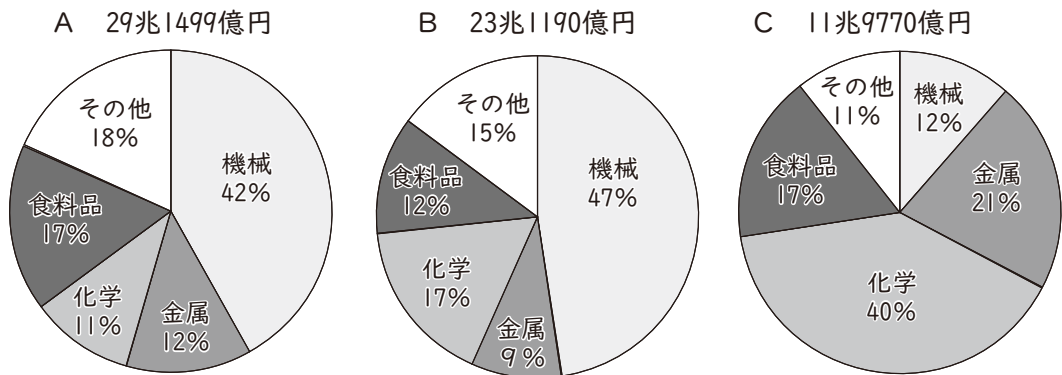
- (6) 次の文章を読み、( ① )・( ② )にあてはまる語句を下のア～エの中から1つずつ選び、記号で答えなさい。

関東地方の大部分は、太平洋側の気候である。冬には北西の方向から乾燥した季節風である( ① )が吹く。海岸部では、暖流である( ② )の影響で冬でも0℃以下になることがほとんどない。

- ① ア やませ      イ <sup>へんせいふう</sup> 偏西風      ウ からっ風      エ 貿易風  
 ② ア 親潮      イ 黒潮      ウ リマン海流      エ 対馬海流

- (7) 資料Ⅳについて、①～③の問いに答えなさい。

[資料Ⅳ] 工業地帯・工業地域の工業出荷額割合 (2020年)



(『日本のすがた』より作成)

- ① A～Cは、京浜工業地帯、京葉工業地域、関東内陸工業地域のいずれかを示したグラフである。京浜工業地帯はどれか、A～Cの中から1つ選び、記号で答えなさい。
- ② 関東内陸工業地域が発展した理由として次のア～エの中から <sup>まちが</sup>間違って述べた文を2つ選び、記号で答えなさい。
- ア 広い土地が安く確保できるから。  
 イ 東京都に比べ賃金が高く、働く人が確保しやすいから。  
 ウ 高速道路の整備により、輸送が便利になったから。  
 エ 近くで機械工業に用いる原料がとれるから。

3 太郎さんは、日本の食事について興味を持ち、調べ学習を行いました。太郎さんがまとめたカードを見て、あとの問いに答えなさい。

A

- ・日本で初めてサツマイモが栽培される。
- ・港・街道の整備が進み、関東の中心地では「i 下り醤油」と呼ばれたものが出回る。

B

- ・「白米はやめましょう」がスローガンになる。
- ・駅弁に「日の丸弁当」が登場する。
- ・看板から「カフェー」などの文字が「ii 敵性横文字」として削除される。

C

- ・貴族食と農民食が分かれ、貴族は iii 中国の食事「唐様式」 など、ぜいたくな食事を楽しんだ。

D

- ・関東大震災で日本橋の魚河岸が消失し、新たに（ ）に開設される。
- ・西洋料理の普及に伴い、鉄・銅・合金の食器が増加する。

E

- ・カップヌードルが発売される。
- ・米余りの対策の一環として学校給食に米飯が導入される。
- ・iv 電気冷蔵庫の普及率が97%になる。

F

- ・茶の湯の流行とともに菓子作りが盛んになる。
- ・v 日本料理における基本的な調理法がほぼ出そろう。
- ・庶民も米を常食とする。

(「日本FOOD紀 食の歴史・年表」を基に作成)

- (1) 下線部 i 「下り醤油」の〔説明文〕として空欄に入る語句を、下の資料と地図を参考にして、次のア～エの中から1つ選び、記号で答えなさい。

〔説明文〕

江戸に（                      ）から菱垣廻船ひがきかいせんで運ばれてくる良質な醤油を「下り醤油」と言った。

ア 下関              イ 銚子              ウ 下田              エ 大阪

- (2) 下線部 ii 「敵性横文字」の「敵性」とはどこの国を指しているか、国名を書きなさい。

- (3) 下線部 iii について、当時の中国と日本の出来事や関係について正しく述べているものを次のア～エの中から1つ選び、記号で答えなさい。

- ア 中国を支配したモンゴル人が日本を従えようと使者を何度か送ってきた。  
イ 中国を征服しようと豊臣秀吉は2度にわたって朝鮮に大軍を送った。  
ウ 朝廷から命令された大使のほかに、留学生や留学僧などが海を渡り、進んだ政治のしくみや文化を学んだ。  
エ 土木技術や養蚕ようさん、中国の文字やインドの仏教など進んだ技術を日本各地に伝えた。



(4) Dのカードの( )に入る地名を書きなさい。

(5) 下線部ivのほかに、この時期に「三種の神器」と呼ばれたものを、次の〔語群〕から2つ選び、答えを書きなさい。

〔語群〕

クーラー 白黒テレビ カラーテレビ 固定電話 携帯電話 電気掃除機  
電気洗濯機 自動車

(6) 下線部vについて、この時代は現在に通じる和食の配膳はいぜんも確立した時期と考えられている。「和食」の内容として、間違まちがっているものを次のア～エの中から1つ選び、記号で答えなさい。

ア 和食の配膳では、お箸は持つ部分を右側にして手前に横一文字に置く。

イ 和食はユネスコの無形文化遺産に登録されている。

ウ 和食では、料理はひとり分ずつではなく、大皿に盛り、提供する。

エ ごはん、汁物、香の物に3種類のおかずが添えられる献立こんだてを「一汁三菜いちじゅうさんさい」という。

(7) 次の歴史的な出来事は、どのカードの時期に起こったか、A～Fの中から1つ選び、記号で答えなさい。

日本は、戦争中に重化学工業の輸出が増え好景気になる一方で、物価が上がり続け、特に米の値段が急激に上がったので、米の安売りを求める運動が全国に広がった。

(8) 次の資料は、どのカードの時代と関連が深いか、A～Fの中から1つ選び、記号で答えなさい。

- (9) Fのカードに「茶の湯の流行」とあるが、それに関係する人物を次のア～エの中から1つ選び、記号で答えなさい。

ア

イ

ウ

エ

- (10) 次の歴史的な出来事が起きた時期について、正しいものを次のア～エの中から1つ選び、記号で答えなさい。

**日本が欧米と結んだ不平等条約の改正が実現する**

- ア この出来事は、Dのカードの時代より後に起きたものである。  
イ この出来事は、CのカードとFのカードの時代の間起きたものである。  
ウ この出来事にかかわった陸奥宗光は、Aのカードの時代に生まれた人物である。  
エ この出来事は、Bのカードの時代区分から数えると、4つ前の時代の出来事である。
- (11) A～Fのカードを時代の古い順から並び変えたときに、4番目にくるカードを記号で答えなさい。

4

次の日本の貿易に関わる年表を見て、あとの問いに答えなさい。

時期	出来事
3世紀	卑弥呼が魏に使いを送る
9世紀	i <u>遣唐使を停止する</u>
11世紀	民間商人による宋との貿易が活発になる
	A
15世紀	( X ) が明と貿易を開始する
16世紀	ポルトガル人が鉄砲を伝える
17世紀	朱印船貿易が開始される
	B
19世紀	ii <u>日米修好通商条約が結ばれ、開国となる</u>
21世紀	日本の最大貿易相手国がアメリカから ( Y ) になる

- (1) 年表中の( X )に入る人物名、( Y )に入る国名をそれぞれ書きなさい。
- (2) 下線部 i の頃の時代に成立した作品として正しいものを次のア～エの中から1つ選び、記号で答えなさい。
- ア 源氏物語      イ 徒然草      ウ 奥の細道      エ 太平記
- (3) 年表中のAの時期の起こった出来事の資料として、次のア～エの中から まちが 間違っ ているものをすべて選び、記号で答えなさい。

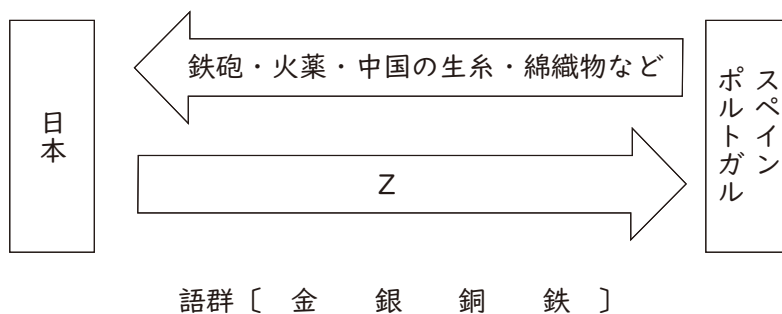
ア \_\_\_\_\_ イ \_\_\_\_\_

ウ \_\_\_\_\_

エ \_\_\_\_\_

(4) 年表中の16世紀に行われた貿易について、①～②の問いに答えなさい。

- ① この貿易相手であるポルトガル人やスペイン人を何と呼んでいたか、書きなさい。
- ② 下の図のZに入る語句を次の語群の中から1つ選び、答えなさい。また、それは主にどこで産出されたものと考えられているか、下の地図の次のア～エの中から1つ選び、記号で答えなさい。



(5) 年表中Bの期間において幕府は貿易を統制していたが、下の説明文以外にも交易を行っていた相手がどこになるか書きなさい。

長崎では、長崎奉行の監督の下、中国・オランダのみに貿易を許可した。また、<sup>ぶぎょう</sup>対馬では、朝鮮との貿易が行われた。さらに、薩摩藩は琉球王国との貿易を展開した。

- (6) 下線部 ii において、右のグラフからこの時期の日本の様子を読み取り、そのようになつた理由を次の語句を使用して説明しなさい。

[ 金 貨幣 物価 ]

5 花子さんが東京都知事選挙に興味をもち、選挙について調べたことについて、あとの問いに答えなさい。

[資料:花子さんが2024年7月7日に行われた東京都知事選挙について調べ、感想をまとめたメモ]

2024年東京都知事選挙の投票が行われた。6,879,502人が投票し、有効投票数は6,823,242票で、投票率は60.62%であった。前回の都知事選挙に比べて、投票率は約5%上昇したが、なぜだろうと思った。理由として、注目された選挙であったこともあるが、i選挙で投票する権利を守るために行われている手立ての1つである、投票日当日に仕事やレジャーなどで投票所に行くことができない場合に事前に投票することができる( )を行った人数が2,151,251人となり、前回都知事選に比べて約1.2倍となったことが要因の一つではないかと考えた。しかしながら、有権者の中で約440万人が投票を棄権したことになる。どうすれば投票率が上がるのかが知りたいと思った。あと気になったこととして、ii立候補者が56名もおり、過去最多だった。候補者が出馬する際に選挙管理委員会等に納める300万円のiii供託金(有効投票数の1割に達すれば返還)の没収ラインは682324.2票となったため、多くの候補者が没収された。供託金によって、立候補の機会が損なわれる可能性は無いのか、疑問に思った。

(1) 資料中の( )にあてはまる語句として正しい語句をア～エの中から1つ選び、記号で答えなさい。

ア 不在者投票      イ 先行投票      ウ 期日前投票      エ 平日投票

(2) 下線部 i について、①～②の問いに答えなさい。

① 選挙で投票する権利を守るためにあるしくみの説明として間違<sup>まちが</sup>って説明している文を次のア～エの中から1つ選び、記号で答えなさい。

- ア 名簿登録地以外の市町村に滞在し、滞在先で病院や高齢者福祉施設に入院・入所していれば、投票所に行かずとも、その施設内で投票できる。
- イ 目に障害がある人が点字器によって投票用紙の裏側から点字を打ち、投票することができる。
- ウ 手や腕の障害で字の書けない人などに代わって、他の人に投票用紙の記入を行ってもらい、投票することができる。
- エ 外国に住んでいても投票期間内に帰国すれば、手続き無しに日本の投票所で投票することができる。

② 学校で模擬投票を行う際に、民主的なルールとして正しい文をア～エの中から一つ選び、記号で答えなさい。

ア 投票用紙を友人に渡して、選挙権をゆずっても良いこととする。

イ 投票用紙に記名し、誰が誰に投票したか分かるようにする。

ウ 成績などに関係なく、誰でも選挙に参加できることとする。

エ 男子は1人1票、女子は1人2票とする。

(3) 下線部 ii に関連して、①～②の問いに答えなさい。

① 都道府県知事選挙に立候補できる者の条件として、正しく説明している文を次のア～エの中から一つ選び、記号で答えなさい。

ア 投票日までに満25歳以上でなければならない。

イ 日本国民でなければならない。

ウ 立候補した都道府県に住んでいなければならない。

エ 選挙に関する犯罪で刑に処せられていても執行猶予中しっこうゆう よちゆうであれば問題はない。

② 選挙の際に、立候補者が有権者に行う約束（公約）のことを何というか、**カタカナ**で書きなさい。

(4) 下線部 iii に関連して、下の資料の中で供託金を没収されなかった候補者は誰か、表中のア～カの中から**すべて選び**、記号で答えなさい。

候補者	得票数
ア	2,918,015
イ	1,658,363
ウ	1,283,262
エ	267,699
オ	267,699
カ	121,715

6

次のグラフをよく見て、あとの問いに答えなさい。

【資料1】 1ドルに対する円の価値



(日本銀行時系列統計データより作成)

【資料2】 物価が上昇した商品

(NHKクローズアップ現代2022年4月6日放送より)

- (1) 点Aから点Bに為替レートが変化することを何というか、漢字で書きなさい。
- (2) 点Aから点Bに為替レートが変化したとき、【資料2】のように物価が上昇した。どうして為替レートがこのように変化すると物価が上昇するのか、説明しなさい。
- (3) 点Aから点Bに為替レートが変化したとき、日本国内で起きると考えられることの中で次のア～エの中から<sup>まちが</sup>間違っているものをすべて選び、記号で答えなさい。
  - ア 輸出企業の売り上げが減少する。
  - イ 外国人旅行者が増え、旅行関係の企業の売り上げが増加する。
  - ウ 日本から海外に旅行に行く人が増える。
  - エ 海外の企業や工場が今までよりも日本に作られるようになる。



7

次の文章をよく読んで、あとの問いに答えなさい。

旧優生保護法のもとで障害などを理由に不妊手術を強制された人たちが国に賠償を求めている裁判のうち、仙台や東京などで起こされた5つの裁判の判決が3日、  
i 最高裁判所大法廷で言い渡されました。

戸倉三郎裁判長は「旧優生保護法の立法目的は当時の社会状況を考えても正当とはいえない。生殖能力の喪失という重大な犠牲を求めるもので個人の尊厳と人格の尊重の精神に著しく反し、ii 憲法13条に違反する」と指摘しました。

旧優生保護法は憲法違反 国に賠償命じる判決 障害者などに不妊手術を強制最高裁 | NHK | 憲法より

- (1) 次の日本国憲法は、下線部 i について書かれた条文である。( A ) に入る語句を次のア～エの中から1つ選び、記号で答えなさい。

日本国憲法 第79条

最高裁判所は、その長たる裁判官及び法律の定める員数のその他の裁判官でこれを構成し、その長たる裁判官以外の裁判官は、( A ) でこれを任命する。

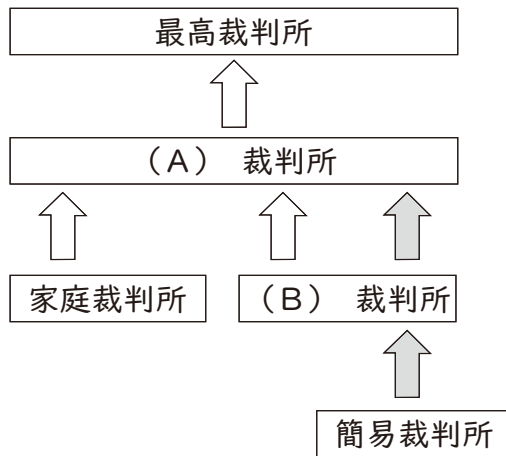
ア 国会      イ 内閣      ウ 裁判所      エ 天皇

- (2) 下線部 i の裁判について、まちが間違って述べているものを次のア～エの中から1つ選び、記号で答えなさい。

- ア この裁判所の裁判官は、15名（長官も含む）で構成されている。
- イ この裁判所は全国に1カ所しかない。
- ウ この裁判所の裁判官は、任命後に行われる国会で国民審査を受ける。
- エ この裁判所が第一審の裁判として開かれることはない。

(3) 下線部 i に関連して、下の図を見て、①～②の問いに答えなさい。

- ① 日本の司法制度は、1つの事件について3回まで裁判を受けられるが、この制度を何というか書きなさい。
- ② (A) と (B) の裁判所の説明として、それぞれ正しいものを次のア～エの中から1つ選び、記号で答えなさい。
- ア 離婚や養育費、相続などの紛争を取り扱う。
- イ 裁判員裁判の第1審が行われる。
- ウ 比較的軽い民事事件や刑事事件を取り扱う。
- エ 全国に東京、大阪、名古屋、広島、福岡、仙台、札幌、高松の8か所に設置されている。



(4) 下線部 ii の条文について、正しいものを次のア～エの中から1つ選び、記号で答えなさい。

- ア 何人も、いかなる<sup>ど</sup>隷<sup>れい</sup>的<sup>てき</sup>拘束<sup>こうそく</sup>も受けない。又、犯罪<sup>よ</sup>に<sup>しよ</sup>因<sup>ぼつ</sup>る処罰<sup>じょばつ</sup>の場合を除いては、その意に反する<sup>く</sup>苦役<sup>くえき</sup>に服させられない。
- イ 思想及び良心の自由は、これを侵してはならない。
- ウ すべて国民は、個人として尊重される。生命、自由及び幸福追求に対する国民の権利については、公共の福祉に反しない限り、立法その他の国政の上で、最大の尊重を必要とする。
- エ すべて国民は、健康で文化的な最低限度の生活を営む権利を有する。